



## ДАР ТЕСТ КАДОМ НАВЪҶОИ САВОЛУ МАСЪАЛАҶО ИСТИФОДА МЕШАВАНД?

Дар ИМД саволу масъалаҳои тест дар се навъ таҳия шудаанд.

**Навъи якум – савол бо интиҳоби як ҷавоби дуруст.** Дар ин навъ барои ҳар саволу масъала чор варианти ҷавоб дода мешавад, ки танҳо яктояш дуруст аст. Ҷавоби дуруст интиҳоб ва дар варақаи ҷавобҳо ишора мешавад.

Дар зер чанд намунаи савол бо интиҳоби як ҷавоби дуруст аз фанҳои забони тоҷикӣ, адабиёти тоҷик, таърих ва математика дода шудааст.

**1. Ба ҷойи сенуқта муродифи луғавии мувофиқро гузоред.**

*16-уми августи соли 1943 Исмоил Ҳамзаалиев дар яке аз муҳорибаҳо қаҳрамонона ...*

- A) вафот кард    B) ҳалок шуд    C) даргузашт    D) аз олам ҷашм пӯшид

**2. Кадоме аз шарҳҳои додашуда ба мисраи якуми байти зерини Абулқосими Фирдавси мувофиқ аст?**

*Тавоно бувад, ҳарки доно бувад,  
Ба дониш дили пир барно бувад.*

- A) аз тавоноӣ инсон ба доноӣ мерасад  
B) ҳар кас ки тавоно аст, доно аст  
C) донишмандии инсон маҳз дар тавоноии ӯст  
D) қудрату тавоноии инсон маҳз дар дониш аст

**3. Вилоятҳои Генерал-губернатории Туркистонро муайян намоед.**

- A) Қўқанд, Хева, Чимкент, Бухоро, Бойсун, Хоразм  
B) Сирдарё, Ҳафтрӯд, Закаспий, Самарқанд, Фарғона  
C) Ўротеппа, Помир, Каспий, Сурхондарё, Хатлон  
D) Ҳисор, Қўрғонтеппа, Марв, Суғд, Тирмиз

**4. Ресмони дарозияш 24 метрро ба ду қисм чунон буридан лозим аст, ки як қисм аз дигараш се маротиба дарозтар бошад. Қисми дарози ресмон бояд чӣ қадар бошад?**

- A) 6 м                      B) 8 м                      C) 12 м                      D) 18 м

Довталаб бо муайян кардани ҷавоби дурусти ҳар саволу масъала онро (мувофиқ бо рақами саволи ҳар субтест) дар варақаи ҷавобҳои тест бо аломати чорчиллик (×) ишора менамояд. Масалан, агар ҷавоби дурусти саволи 1-ум варианти B бошад, довталаб онро дар варақаи ҷавобҳои тест ин таъри ишора мекунад:

A    B    C    D  
1

**Навъи дуҷум – муайян кардани мувофиқат.** Дар ҷунин навъи саволу масъала ба калимаҳо ва ҷумлаҳо (ва ё формулаҳо, функсияҳо), ки дар сутуни чап дода шудааст, аз сутуни рост ҷавоби мувофиқ ва дуруст интихоб карда мешавад.

Масалан, дар субтести забони тоҷикӣ ҷунин масъала дода шудааст:

**1.** Ба кадом маънои маҷозӣ истифода шудани ибораҳои сутуни якумро аз сутуни дуҷум нишон диҳед.

- |                |                               |
|----------------|-------------------------------|
| A) дили кашол  | 1) дили бераҳм, бешафқат      |
| B) дили пурхун | 2) дили осуда, хотирчамъ      |
| C) дили сангин | 3) дили бесабру қарор         |
| D) дили танг   | 4) дили боумед, моил ба чизе  |
|                | 5) дили ғамгин, пурдарду алам |

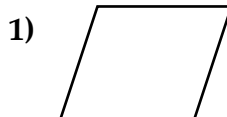
Масалан, агар доғалаб ба варианти A ҷавоби рақами 4, ба варианти B рақами 5, ба варианти C рақами 1 ва ба варианти D рақами 3-ро мувофиқ ҳисобад, дар варақаи ҷавобҳо ин тавр ишора намояд:

	1	2	3	4	5
A				X	
B					X
C	X				
D			X		

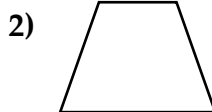
Намунаи масъала аз субтести математика.

**2.** Муайян намоед, ки ҳар як таърифи додашуда ба кадом фигура тааллуқ дорад.

A) параллелограмме, ки ҳамаи кунҷҳои он рост, вале на ҳамаи тарафҳои он баробар аст



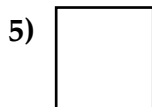
B) параллелограмме, ки ҳамаи тарафҳои он баробар, вале кунҷҳои он рост нест



C) чоркунҷае, ки ду тарафаш параллел ва ду тарафаш нопараллел аст



D) росткунҷае, ки ҳамаи тарафҳои он баробар аст



Тарзи ишораи ҷавоби дуруст ҷунин аст:

	1	2	3	4	5
A			X		
B	X				
C		X			
D					X

